

ΠΑΝΕΛΛΑΔΙΚΕΣ ΕΞΕΤΑΣΕΙΣ 2022
ΗΜΕΡΗΣΙΩΝ & ΕΣΠΕΡΙΝΩΝ ΓΕΝΙΚΩΝ ΛΥΚΕΙΩΝ
ΧΗΜΕΙΑ ΠΡΟΣΑΝΑΤΟΛΙΣΜΟΥ

ΘΕΜΑ Α

Για τις προτάσεις **A1** έως και **A5** να γράψετε στο τετράδιό σας τον αριθμό της πρότασης και δίπλα το γράμμα που αντιστοιχεί στη σωστή επιλογή.

A1. Από τις παρακάτω ηλεκτρονιακές δομές αντιστοιχεί σε παραμαγνητικό στοιχείο η:

- α. $1s^2$.
- β. $1s^2 2s^2 2p^6$.
- γ. $1s^2 2s^2 2p^4$.
- δ. $1s^2 2s^2 2p^6 3s^2 3p^6 4s^2$.

Μονάδες 5

A2. Ενδόθερμη αντίδραση είναι η:

- α. $C(s) + O_2(g) \rightarrow CO_2(g)$.
- β. $2H_2(g) + O_2(g) \rightarrow 2H_2O(g)$.
- γ. $Mg(g) \rightarrow Mg^+(g) + e^-$.
- δ. $NaOH(aq) + HCl(aq) \rightarrow NaCl(aq) + H_2O(l)$.

Μονάδες 5

A3. Από τα παρακάτω διαλύματα ρυθμιστικό είναι:

- α. $NaOH$ 0,1M – $NaCl$ 0,1M.
- β. $NaCN$ 1M – HCN 1M.
- γ. KCN 0,1M – $NaCN$ 1M.
- δ. $NaOH$ 0,1M – NH_3 0,1M.

Μονάδες 5

A4. Η οργανική ένωση που αντιδρά με διάλυμα $I_2 / NaOH$ προς σχηματισμό κίτρινου ιζήματος είναι η:

- α. CH_3COOH .
- β. $HCHO$.
- γ. CH_3COCH_3 .
- δ. $CH_3CH_2CH_2OH$.

Μονάδες 5

A5. Ο σ δεσμός μεταξύ των $\overset{1}{C}$ και $\overset{2}{C}$ στην ένωση $\overset{4}{C}H_3\overset{3}{C}H_2\overset{2}{C}H_2\overset{1}{C}OOH$ σχηματίζεται με επικάλυψη υβριδικών τροχιακών:

- α. $sp^2 - sp^3$.
- β. $sp - sp^3$.
- γ. $sp - sp$.
- δ. $sp^2 - sp^2$.

Μονάδες 5

ΘΕΜΑ Β

B1. Διαθέτουμε διάλυμα HCOOH συγκέντρωσης 0,1 M. Να εξηγήσετε πώς μεταβάλλονται (αυξάνονται/μειώνονται/παραμένουν σταθερά) τα μεγέθη: βαθμός ιοντισμού (α) και συγκέντρωση οξωνίων [H₃O⁺], όταν:

α. προσθέσουμε H₂O. (μονάδες 2)

β. προσθέσουμε αέριο HCl, χωρίς μεταβολή όγκου. (μονάδες 4)

Τα δεδομένα του προβλήματος επιτρέπουν τις γνωστές προσεγγίσεις και η θερμοκρασία παραμένει σταθερή.

Μονάδες 6

B2. α. Να γίνει ηλεκτρονιακή δόμηση σε υποστιβάδες των ⁸O, ¹⁵P³⁻, ¹⁶S, ¹⁶S²⁻. (μονάδες 4)

β. Να κατατάξετε κατά αύξουσα σειρά μεγέθους τα παραπάνω άτομα και ιόντα (μονάδα 1) αιτιολογώντας την απάντησή σας. (μονάδες 3)

Μονάδες 8

B3. Διαθέτουμε δύο διαλύτες, H₂O και CCl₄. Να εξηγήσετε σε ποιον διαλύτη μπορούν να διαλυθούν καλύτερα οι ακόλουθες χημικές ενώσεις:

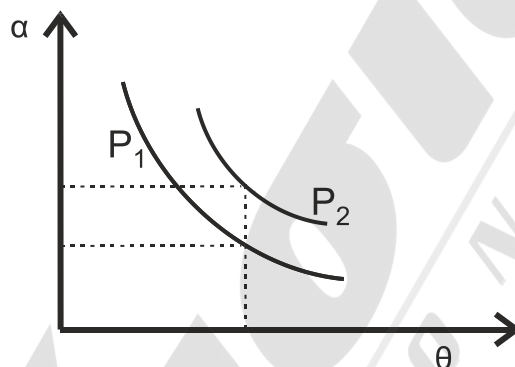
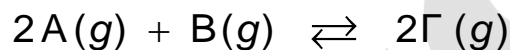
α. KCl.

β. C₆H₁₄ (εξάνιο).

γ. CH₃OH.

Μονάδες 6

B4. Σε δοχείο μεταβλητού όγκου πραγματοποιείται η χημική ισορροπία:



Στο παραπάνω διάγραμμα δίνονται δύο γραφικές παραστάσεις της απόδοσης α σε συνάρτηση με τη θερμοκρασία θ σε δύο διαφορετικές τιμές πίεσης P₁ και P₂.

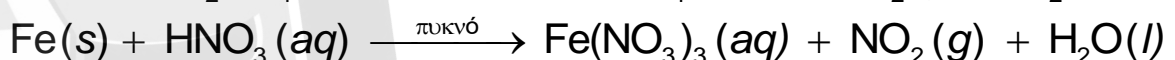
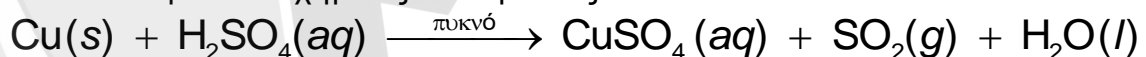
α. Να εξηγήσετε αν η αντίδραση είναι εξώθερμη ή ενδόθερμη. (μονάδες 2)

β. Να εξηγήσετε ποια από τις δύο πιέσεις P₁, P₂ είναι μεγαλύτερη. (μονάδες 3)

Μονάδες 5

ΘΕΜΑ Γ

Γ1. Δίνονται οι παρακάτω χημικές αντιδράσεις:

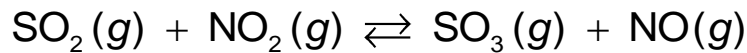


α. Να ισοσταθμιστούν οι αντιδράσεις. (μονάδες 2)

β. Να καθορίσετε το οξειδωτικό και αναγωγικό σώμα σε κάθε αντίδραση. (μονάδες 4)

Μονάδες 6

- Γ2.** Τα παραγόμενα αέρια SO_2 και NO_2 διοχετεύονται σε δοχείο σταθερού όγκου $V = 1\text{L}$ και αποκαθίσταται η χημική ισορροπία:



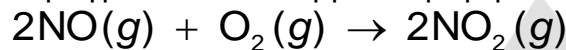
Αν στην κατάσταση χημικής ισορροπίας περιέχονται $0,2\text{ mol SO}_2$, $0,6\text{ mol NO}_2$, $0,6\text{ mol SO}_3$ και $0,6\text{ mol NO}$, να υπολογίσετε:

- τη σταθερά K_c της χημικής ισορροπίας. (μονάδες 2)
- την απόδοση της αντίδρασης. (μονάδες 4)
- πόσα mol SO_2 πρέπει να προστεθούν επιπλέον στο αρχικό μίγμα SO_2 και NO_2 ώστε το SO_2 να βρεθεί σε περίσσεια και η απόδοση της αντίδρασης να παραμείνει η ίδια. (μονάδες 5)

Καθ' όλη τη διάρκεια των πειραμάτων η θερμοκρασία δεν μεταβάλλεται.

Μονάδες 11

- Γ3.** Το παραγόμενο αέριο NO διοχετεύεται σε δοχείο που περιέχει O_2 . Στους 25°C και πίεση $P = 1\text{ atm}$ πραγματοποιείται η μονόδρομη αντίδραση



για την οποία δίνονται τα παρακάτω πειραματικά δεδομένα:

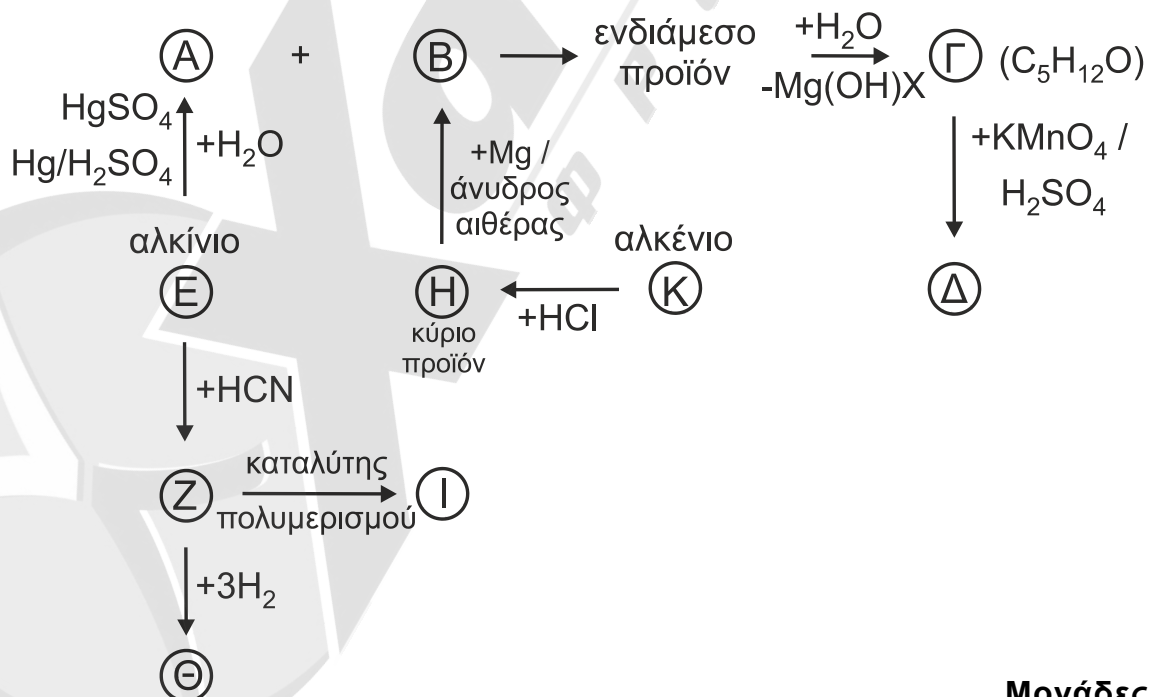
πείραμα	$[\text{NO}]_{\text{αρχ}} / \text{mol}\cdot\text{L}^{-1}$	$[\text{O}_2]_{\text{αρχ}} / \text{mol}\cdot\text{L}^{-1}$	$u_{\text{αρχ}} / \text{mol}\cdot\text{L}^{-1}\cdot\text{s}^{-1}$
1	$2 \cdot 10^{-2}$	$5 \cdot 10^{-3}$	$3,2 \cdot 10^{-3}$
2	$4 \cdot 10^{-2}$	$5 \cdot 10^{-3}$	$12,8 \cdot 10^{-3}$
3	$2 \cdot 10^{-2}$	$2,5 \cdot 10^{-3}$	$1,6 \cdot 10^{-3}$

- Να γράψετε τον νόμο ταχύτητας της αντίδρασης. (μονάδες 5)
- Να υπολογίσετε την αριθμητική τιμή της σταθεράς ταχύτητας της αντίδρασης και τις μονάδες της. (μονάδες 3)

Μονάδες 8

ΘΕΜΑ Δ

- Δ1.** Να γράψετε τους συντακτικούς τύπους των οργανικών ενώσεων Α, Β, Γ, Δ, Ε, Ζ, Η, Θ, Ι και Κ.

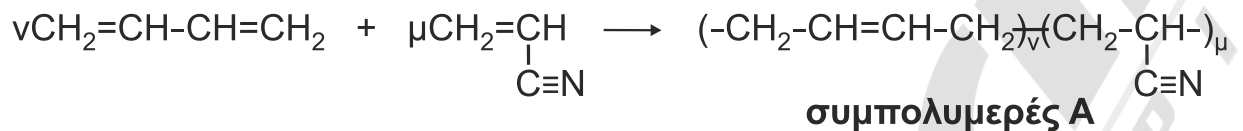


Μονάδες 10

Δ2. Υδατικό διάλυμα πρωτοταγούς αμίνης RNH_2 ογκομετρείται με πρότυπο διάλυμα HCl . Κατά την προσθήκη 20 mL διαλύματος HCl , η συγκέντρωση $[\text{OH}^-]$ στους 25°C βρέθηκε ίση με $8 \cdot 10^{-4} \text{ M}$. Μετά την προσθήκη επιπλέον 40 mL διαλύματος HCl , η ογκομέτρηση καταλήγει στο ισοδύναμο σημείο. Να υπολογίσετε τη σταθερά ιοντισμού K_b της αμίνης.

Μονάδες 6

Δ3. Η βιομηχανία χρησιμοποιεί τον συμπολυμερισμό προκειμένου να βελτιώσει τις ιδιότητες των υλικών. Δίνεται η παρακάτω αντίδραση συμπολυμερισμού:



53,8 g του συμπολυμερούς Α διαλύονται σε κατάλληλο διαλύτη και προκύπτει διάλυμα όγκου 0,3 L, το οποίο παρουσιάζει ωσμωτική πίεση $\Pi = 0,082 \text{ atm}$ στους 27°C .

- i) Να βρεθεί η σχετική μοριακή μάζα (M_r) του συμπολυμερούς Α. (μονάδες 4)
- ii) Ακολούθως 5,38g του συμπολυμερούς Α αντιδρούν πλήρως με H_2 (η αντίδραση να θεωρηθεί ποσοτική) και διαλύονται σε νερό οπότε προκύπτει διάλυμα όγκου 50 mL, τα οποία απαιτούν για την πλήρη εξουδετέρωσή τους 20 mL πρότυπου διαλύματος HCl 1 M. Να υπολογίσετε τις τιμές v και μ των μονομερών που σχηματίζουν ένα μόριο του συμπολυμερούς Α (μονάδες 3) καθώς και τη μάζα του H_2 που καταναλώθηκε. (μονάδες 2)

Μονάδες 9

Δίνονται ότι:

- $A_r : \text{H} = 1, \text{C} = 12, \text{N} = 14$
- $R = 0,082 \text{ L} \cdot \text{atm} / \text{mol} \cdot \text{K}$
- $K_w = 10^{-14}$

Τα δεδομένα του προβλήματος επιτρέπουν τις γνωστές προσεγγίσεις.